


CONTANDO E APRENDENDO


1. Observe a figura e responda as perguntas a seguir:



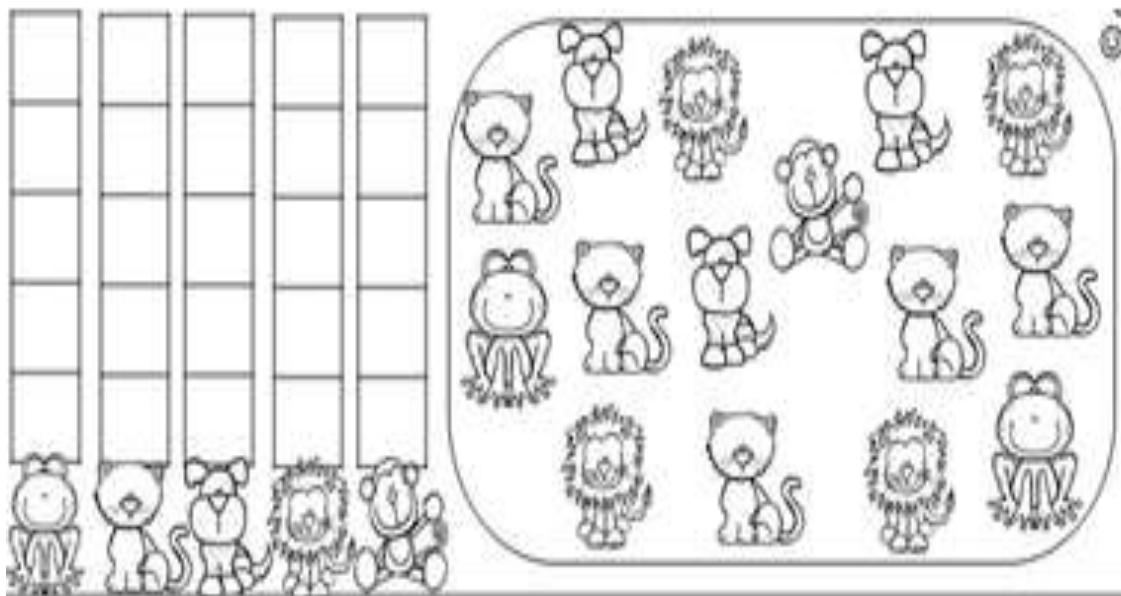
www.misturadealegria.blogspot.com.br

- a) Há mais frutas ou flores? _____
- b) Quantos animais há ao todo? _____
- c) Se o passarinho bicar uma maçã, quantas ficarão inteiras? _____
- d) Desenhe mais 3 flores no jardim. Quantas ficaram? _____
- e) É dia ou noite? Como você sabe? _____

- f) Pinte o bichinho que está em cima da casa e invente um nome para ele:



2. Pinte no gráfico a quantidade de cada animal:



3. Agora responda:


a) Qual desses animais é considerado selvagem? _____

b) O animal que mais aparece é considerado de estimação?

Sim Não

c) Quantos animais têm ao todo? _____

d) Desenhe o animal que menos apareceu e a fruta que ele mais gosta:



Quanta saudade eu sinto de você!