



Nova Friburgo, _____ de _____ 2020.

Nome: _____

2º ano – Ensino Fundamental I Turma: _____ Nº: _____

Professora: Patricia

Atividade IX

1º TRIMESTRE – ATIVIDADES DE MATEMÁTICA

DEZENA E UNIDADE

1. Observe as figuras em cada caso e faça como no exemplo.

Exemplo:

2 dezenas e 6 unidades

a)

b)

2. Preencha o com o número formado pelas quantidades indicadas, conforme exemplo.

Exemplo:
3 dezenas e 6 unidades

a) 5 dezenas e 6 unidades

b) 6 dezenas e 9 unidades

c) 8 dezenas e 4 unidades

3. Escreva os números por extenso, usando dezenas e unidades.

Exemplo:
35 → 3 dezenas e 5 unidades

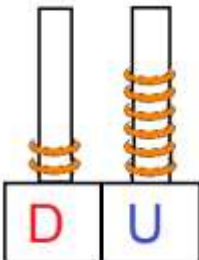
a) 46 → _____

b) 58 → _____

c) 62 → _____

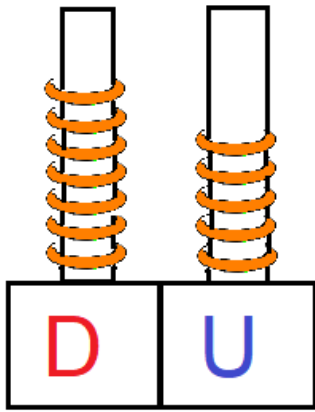
4. Descubra a regularidade para completar a sequência.

Exemplo:

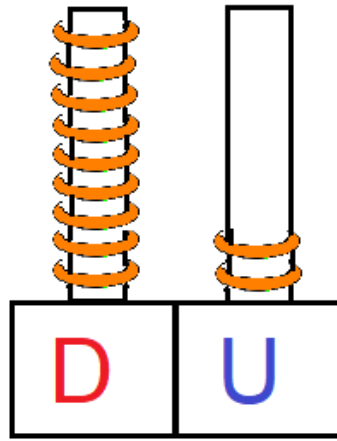


26

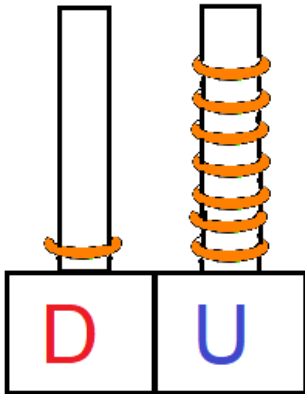
a)



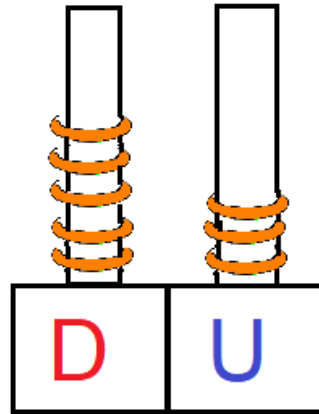
b)



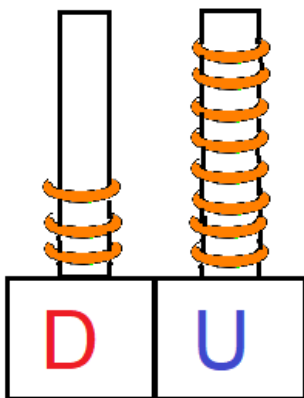
c)



d)



e)



5. Escreva em **ordem decrescente** (do maior para o menor) os números abaixo.

17

14

19

13

16

6. Os números de 10 a 19 são formados por dois algarismos. Escreva os números de dois algarismos menores que 17.

7. Lucas tem uma dezena de carrinhos e 6 trenzinhos. Quantos brinquedos Lucas tem ao todo?



8. Observe a cena abaixo.

- Agora, invente um problema de subtração relacionado à cena. Escreva o enunciado do problema nas linhas a seguir. Depois, resolva-o.



Cálculo

Resposta. _____

Beijos recheados de muito carinho!

Amo você!